

NOME: _____ TURMA: _____


TENTE DESENHAR OUTROS OBJETOS USANDO ESSAS FIGURAS GEOMÉTRICAS
USADAS NESTA AULA.


NOME: _____ TURMA: _____


DÊ O NOME DE CADA FIGURA GEOMÉTRICA EM CADA UMA DAS IMAGENS.













NOME: _____ TURMA: _____

RESPONDA EM CADA FIGURA COM **SIM**, SE ELE FOR UM TRIÂNGULO E COM **NÃO** SE ELE NÃO FOR UM TRIÂNGULO.

